



کد محصول
ES278



آخرین بروزرسانی
۱۵ مهر ۱۴۰۴

سوالات استخدامی

قوه قضاییه (کادر اداری)

✓ مطابق با منابع اعلام شده در آزمون استخدامی ۱۴۰۴

✓ نسخه رایگان شامل ۱۹۲ سوال (تعداد کمتر و تنها برخی دارای پاسخ)

✓ برای تهیه نسخه اصلی، با ۱۰۳۰ سوال به همراه پاسخنامه تشریحی، به سایت ایران عرضه مراجعه نمایید.



لینک های مفید آزمون استخدامی قوه قضاییه (کادر اداری)

خرید این محصول	دانلود رایگان سوالات قوه قضاییه با پاسخنامه
خرید سوالات تقریر نویس	خرید سوالات کارشناس شبکه
خرید سوالات کارشناس فناوری اطلاعات	خرید سوالات متصدی امور دفتری
خرید سوالات مسئول ابلاغ و اجرا	خرید جزوه عمومی آزمون
سوالات استخدامی ۱۰ سال اخیر	منابع آزمون
اخبار آزمون	شبکه های اجتماعی ایران عرضه (فایل های رایگان + تخفیفات هفتگی + اخبار)

(برای مشاهده هر بخش روی آن بزنید )

آخرین بروزرسانی ها:

۱۴۰۴/۰۷/۱۵ تالیف مجدد محصول

فهرست مطالب

❖ فصل اول: سوالات معارف اسلامی - صفحه ۴

◀ بخش اول: ولایت فقیه امام خمینی (ره) (۷ سوال)

◀ بخش دوم: طرح کلی اندیشه اسلامی (۷ سوال)

◀ بخش سوم: جدال دو اسلام (۷ سوال)

❖ فصل دوم: سوالات زبان و ادبیات فارسی - صفحه ۸ (۲۰ سوال)

❖ فصل سوم: سوالات اطلاعات عمومی و دانش اجتماعی - صفحه ۱۱ (۲۰ سوال)

❖ فصل چهارم: سوالات قوانین و مقررات اداری و قانون اساسی - صفحه ۱۳

◀ بخش اول: قانون اساسی (۷ سوال)

◀ بخش دوم: بیانیه گام دوم (۷ سوال)

◀ بخش سوم: برنامه هفتم توسعه (۷ سوال)

❖ فصل پنجم: سوالات ریاضی و آمار مقدماتی - صفحه ۱۷ (۲۰ سوال)

❖ فصل ششم: سوالات توانمندی های ذهنی و ویژگی های رفتاری - صفحه ۱۹ (۲۰ سوال)

❖ فصل هفتم: سوالات زبان انگلیسی عمومی - صفحه ۲۴ (۲۰ سوال)

❖ فصل هشتم: سوالات فناوری اطلاعات - صفحه ۲۸ (۲ سوال)

❖ فصل نهم: سوالات استخدامی قوه قضاییه ۱۴۰۰ - صفحه ۳۱ (۳۰ سوال)

معارف اسلامی - زبان انگلیسی - عمومی - اطلاعات عمومی، دانش اجتماعی، هوش و توانمندی های عمومی

در هر بخش، تنها ۱ سوال ابتدایی دارای پاسخنامه تشریحی می باشد. در صورت تمایل به دریافت سوالات بیشتر با جواب تشریحی می توانید این محصول را از سایت ایران عرضه خریداری نمایید.

خرید محصول

❖ فصل اول: سوالات معارف اسلامی

◀ بخش اول: ولایت فقیه امام خمینی (ره)

۱- اسلام چگونه دینی است؟

(۱) دین افراد مجاهدی که به دنبال حق و عدالتند.

(۲) دین کسانی که آزادی و استقلال می‌خواهند.

(۳) دین همه مردم اعم از مجاهد و غیر مجاهد است.

(۴) مورد ۱ و ۲

❑ پاسخ سایت ایران عرضه: گزینه ۲ ← اسلام، دین افراد مجاهدی است که به دنبال حق و عدالت‌اند، دین کسانی که آزادی و استقلال می‌خواهند، مکتب مبارزان و مردم ضد استعمار است.

۲- بر طبق سخنان امام خمینی مشروطه خواهان چگونه قانون اساسی را تدوین کردند؟ (iranarze.ir)

(۱) مجموعه حقوقی بلژیکی‌ها را از سفارت بلژیک قرض کردند و با مجموعه‌های حقوقی غرب ترمیم کردند.

(۲) مجموعه حقوقی فرانسه و انگلیس را قرض کردند و مجموعه حقوقی بلژیکی را ضمیمه آن کردند.

(۳) نقایص قانون اساسی را با مجموعه‌های حقوقی غرب و انگلیس ترمیم نمودند.

(۴) مجموعه حقوقی بلژیکی‌ها را از سفارت بلژیک قرض کردند، و نقایص آنرا از مجموعه‌های حقوقی فرانسه و انگلیس به اصطلاح «ترمیم» نمودند.

۳- چرا در اسلام برای رباخواری و بانکداری توام با رباخواری قانون و مقررات تعیین نشده است؟

(۱) زیرا اسلام سلطنت و ولایت عهدی ندارد و رباخواری مربوط به سلطنت است.

(۲) چون اساساً این‌ها را حرام کرده است

(۳) اسلام سلطنت و ولایت عهدی ندارد بنابراین اسلام ناقص است.

(۴) ۱ و ۳

۴- در رابطه با این فرموده امام که "قوانین فعلی دادگستری، برای مردم نتیجه ای ندارد". کدام گزینه صحیح نیست؟

(۱) کمتر کسی به حقوق حقه خود می‌رسد. (۲) وقت و کیفیت زندگی و کارهای طرفین در آن ملاحظه نشده است.

(۳) استفاده‌های غیرمشروع از آنها میشود. (۴) سریعتر ولی به ناحق رسیدگی می‌شود.

۵- در قانون اسلام دلیل حضور تعدادی از مومنان به هنگام اجرای حدود چیست؟

- (۱) از عقوبت آنان عبرت گیرند.
 (۲) از جمله آداب کیفر خاطی برشمرده شده است.
 (۳) فتوای آن به آیه ۲ از سوره نور باز می‌گردد.
 (۴) همه گزینه ها.

۶- عدالت چه معناست؟

- (۱) یک صفت راسخ نفسانی است .
 (۲) عدالت یعنی شخص را بر ملازمت تقوا یعنی ترک محرمات و انجام واجبات وا دارد.
 (۳) عدالت یعنی پیروی از عادات نیکو و دوری از زشتی های رفتاری.
 (۴) ۱ و ۲

۷- در یک تشریع یا در یک حکومت اگر..... نباشد، نقص وارد است.

- (۱) قوه مقننه (۲) ولی امر (۳) قوه مجریه (۴) ولایت فقیه



بخش دوم: طرح کلی اندیشه اسلامی

۱- عالم اسلامی..... ندارد عالم اسلامی همانی است که سعی می کند که بگیرد.....

(۱) رهبانیت - غریق را (۲) غریق را - رهبانیت

(۳) گوشه گیری - روحانیت (۴) ترس دائمی - تارک دنیا

❑ پاسخ سایت ایران عرضه: گزینه ۱ ➡ عالم اسلامی رهبانیت ندارد، گوشه گیری ندارد، فرار ندارد. عالم اسلامی همانی است

که سعی می کند که بگیرد غریق را

۲- چرا بر اساس آیه " وَ أَطِيعُوا اللَّهَ وَالرَّسُولَ لَعَلَّكُمْ تُرْحَمُونَ " قرآن سفارش به اطاعت از خدا و هم پیامبر نموده است؟

(۱) زیرا اطاعت از خداوند و پیامبر لازم است.

(۲) راهبان مسیحیت احبار یهود هم، ادعای عبودیت و اطاعت خدا را می کردند.

(۳) همه کس می توانند مدعی باشند که بنده خدا هستند و مطیع او.

(۴) برای اینکه مومنان مورد رحم پروردگار قرار گیرند.

(۱) ۲، ۱ (۲) ۴، ۳، ۲ (۳) ۳، ۲ (۴) ۳، ۱

۳- بزرگترین عظمت های وجود، بعد از پروردگار چه چیز است؟ (منبع فروشگاه اینترنتی ایران عرضه)

(۱) کالبد کوچک و محدود انسان است. (۲) کهکشان و آسمان ها و زمین است.

(۳) ایمان و تقوا است. (۴) دنیای مادی و هستی است.

۴- و رهبانیت به ابتدعوها در این جمله کلمه ابتدعوها به چه معناست؟

(۱) پیروی کردن (۲) بدعت ایجاد کردن

(۳) دعا کردن (۴) همه موارد

۵- در ایه زیر دنیا به چه چیزی تشبیه شده است؟

وَسَارِعُوا إِلَى مَغْفِرَةٍ مِنْ رَبِّكُمْ

(۱) مزرعه (۲) ساحتی برای گشت و گذار

(۳) مسابقه (۴) خانه

۶- انسان با گناه جان خود را از اوج انسانیت و تکامل و نقطه پرواز انسانی کمی منحط می کند. منحط یعنی.....

(۱) پایان (۲) دور (۳) پست کردن (۴) کثیف کردن

۷- توبه کردن در لمن تاب به چه معنی است؟

(۱) برگشتن (۲) دل خوش داشتن

(۳) ایمان داشتن (۴) همه موارد

بخش سوم: جدال دو اسلام

۱- این سخن امام خمینی که «سالیان سال فرزندان انقلابی جهان را در حصارهای آهنین زندانی نموده بود» اشاره به کدام یک از موارد زیر است؟ (۱ ایران عرضه)

- (۱) شکستن استخوان‌های مارکسیسم (۲) امپریالیسم ستیزی
(۳) مفهوم ملکوتی مستضعف (۴) عدالت توحیدی

❑ پاسخ سایت ایران عرضه: گزینه ۱ ➡ صدای شکستن استخوان‌های مارکسیسم که در نگاه حضرت روح الله «سالیان سال فرزندان انقلابی جهان را در حصارهای آهنین زندانی نموده بود» جهان را تکان داد.

۲- مذهبی که وسیله شود تا سرمایه‌های مادی و معنوی کشورهای اسلامی و غیر اسلامی در اختیار ابرقدرت‌ها قرار گیرد و بر سر مردم فریاد کشد که دین از سیاست جدا است، که مخدر جامعه است. ولی این دیگر مذهب واقعی نیست، بلکه مذهبی است که مردم ما آن را مذهب می‌نامند.

- (۱) مذهب منهای معنویت (۲) مذهب منهای عدالت
(۳) مذهب آمریکایی (۴) مذهب امپریالیسم

۳- کدام یک از موارد زیر تعریف اسلام آمریکایی می‌باشد؟

- (۱) یعنی توحید بی‌خطر (۲) یعنی توحید بدون «لا اله» که هرگز به تفلحوا نمی‌رسد
(۳) یعنی تحریف اسلام (۴) گزینه صحیح شماره ۱ و ۲

۴- اسلام ناب محمدی یعنی اسلام انقلابی که دعوتش به و برای جبهه کفر و سرمایه‌داری خانه برانداز و فتنه‌انگیز است.

- (۱) توحید و نبوت (۲) نبوت و ازادگی (۳) معاد و رستاخیز (۴) توحید و معاد

۵- در پیام پذیرش قطعنامه ۵۹۸ توسط امام بیشتر موضوع پیام به کدام مسئله اختصاص دارد؟

- (۱) مسئله حج و تبیین وضعیت جهان اسلام در دوران معاصر
(۲) به خود موضوع قطعنامه صلح
(۳) آزادی فلسطین و آرمانهای آن
(۴) توحید و معاد در جهان امروز

۶- استفاده از گفتمان «اسلام ناب- اسلام آمریکایی» و «جنگ فقر و غنا» توسط امام خمینی در پیام قطعنامه مبین کدام یک از ابعاد سازماندهی امام بود؟

- (۱) بعد معرفتی (۲) بعد سازمانی (۳) بعد آسیب شناسی (۴) بعد جهاد و شهادت

۷- در کدام یک از منشورهای زیر امام خمینی یک بحث جدی راجع به فقه پویا می‌کند؟

- (۱) منشور برادری (۲) منشور هنر (۳) منشور روحانیت (۴) منشور آزادی

❖ فصل دوم: سوالات زبان و ادبیات فارسی

۱- در عبارت زیر، معنی واژه «غدر» کدام است؟ «یکی را از آنان که غدر کردند با من دم دوستی بود.»

- (۱) اسیر (۲) بی ارزش (۳) حيله (۴) دشمن

❑ پاسخ سایت ایران عرضه: گزینه ۳ ➡ غدر به معنی بی وفایی کردن، خیانت ورزیدن - بی وفایی، خیانت - مکر، حيله . این نثر از گلستان سعدی می باشد.

۲- کدام گروه کلمه، فاقد «غلط املائی» است؟ (تهیه شده توسط ایران عرضه)

- (۱) اعزاز و اکرام، ثقت و اطمینان، تضاد و تعارض
(۲) سیلی و قفا زدن، غریب و آواره، قصد عظیمت
(۳) خضوع و خشوع، یاری و معونت، تعسّی و پیروی
(۴) آزمند و حریص، قریو شادی، پناه و ملجأ

۳- در کدام عبارت، غلط املائی وجود دارد؟

- (۱) همه شب در لجه لجاج خویش غوطه ندامت و غصّه آن حالت می خورد.
(۲) خوش آوازی که به حنجره داوودی آب از جریان و مرغ از تیران باز دارد.
(۳) به عذر ماضی در قدمش فتادند و بوسه چندی به نفاق بر سر و چشمش دادند.
(۴) گروهی مردمان را دید، هر یک به قراضه ای در معبر نشسته و رخت سفر بسته.

۴- معنی «کم زنی» در عبارت زیر، کدام است؟

«هرگونه اهانت و ایذا را با خونسردی و «کم زنی» مقابله می کرد»

- (۱) بزرگواری (۲) بی توجهی (۳) تمسخر (۴) خوش خلقی

۵- آرایه های بیت زیر، کدام اند؟

«خشت وجود مرا خرد کن ای غم چو گرد تا بکنم همچو گرد گرد سوارم طواف»

- (۱) تشبیه، حسن تعلیل، تشخیص، جناس
(۲) تشبیه، جناس، کنایه، تشخیص
(۳) کنایه، مجاز، حسن تعلیل، استعاره
(۴) استعاره، تشبیه، تلمیح، مجاز

۶- مفهوم کنایی «شرم و حیا داشتن»، از کدام بیت دریافت می شود؟

- (۱) هر جا که بنگری رخ او در تجلّی است
(۲) عشق بی جلوه حُسنی نکشد ناز وجود
(۳) یوسف از گرگ چون کند نالاش
(۴) زلیخا رخ بدان فرخ لقا داشت
(۱) مجنون اگر شوی همه آفاق لیلی است
(۲) یوسفی هست به هر جا که زلیخایی هست
(۳) که به چاهش برادر اندازد
(۴) ولی یوسف نظر بر پشت پا داشت

۷- مفهوم همه ابیات دربردارنده ضرب المثل «نابرده رنج گنج میسر نمی شود» است، به جز

- (۱) لاف از سخن چو دُر توان زد
(۲) چون باز زنی ز نیشکر بند
(۳) خواهی قلمت به چرخ سایید
(۴) کانی که کنی ز بهر گوهر
- آن خشت بود که پرتوان زد
خس در دهن ابد اوّل از قند
بی دود چراغ برنیاید
سنگت دهد اوّل آنگهی زر

۸- مفهوم کدام بیت، با سایر ابیات، تفاوت دارد؟

- (۱) همّت بلند دار که مردان روزگار
(۲) چند منقاد هر خسی باشی
(۳) همای بر سر مرغان از آن شرف دارد
(۴) هر که را یک دَرّه همّت داد دست
- از همّت بلند به جایی رسیده اند
جهد آن کن که خود کسی باشی
که استخوان خورد و جانور نیازارد
کرد او خورشید را زان دَرّه پست

۹- کدام عبارت، نیاز به ویرایش دارد؟

- (۱) کمیت آثار او زبان زد عام و خاص است و از نظر کیفی هم جایگاه والایی دارد.
(۲) در عشق هم ایثار است، هم اخلاص، به عشق حقیقی روی آرید تا کامیاب شوید.
(۳) برای همکاری با این سازمان، تلاش شبانه روزی او نتیجه بخش بود
(۴) کسی به تراوشات ادبی او توجّه نداشت و از آن استفاده ای نمی کرد.

۱۰- در متن زیر، چند مورد «غلط نگارشی» وجود دارد؟ (ایران عرضه)

«ارجح تر، آن است که آدمیت را فراموش نکنیم و برای بقای بشریت بکوشیم. قلباً و دروناً در حقیقت روی آریم و از شیاطین بپرهیزیم.»

- (۱) دو (۲) یک (۳) چهار (۴) سه

۱۱- فعل کدام عبارت، ساده است؟

- (۱) حسن تعدادی کتاب از دوستش قرض گرفت.
(۲) او درباره علاقه مردم به ادبیات تحقیق کرد.
(۳) من به کارهای او ایمان آوردم.
(۴) همه بچه ها را در این جشن شرکت دادند.

۱۲- در همه مصراع ها واژه مرکب وجود دارد، به جز

- (۱) که من بعد بی آبرویی مکن
(۲) به از ما سخنگوی دانا یکی است
(۳) نرنجید از او حیدر نامجوی
(۴) بر سنگدل برد یک مشت سیم

۱۳- در بیت زیر، معنی واژه «زلّت» کدام است؟

«به پاکان کز آلایشم دور دار وگر زلّتی رفت معذور دار»

- (۱) خطا و لغزش (۲) گمراهی و نادانی (۳) خفت و خواری (۴) هوا و هوس

۱۴- معنی واژه های «جولاهه - حلیه - اهمال»، به ترتیب، کدام است؟

(۱) عنکبوت - آرایش - بی نظیر و بی همتا (۲) بافنده - زیور - فرو گذاشتن

(۳) بافته - شیرینی - سستی کردن در کاری (۴) نساج - زینت - همتا و نظیر

۱۵- در متن زیر، چند «غلط املایی» یافت می شود؟

«اگر پیش از این نسیم این راحت به دماغ من رسیده بودی و لذت فراغت و حلاوت قناعت به کام من پیوسته بودی، هرگز

خویشتن بدان ملک بسیار طبعت اندک منفعت آلوده نگردانیدی.»

(۱) دو (۲) سه (۳) چهار (۴) یک

۱۶- در کدام عبارت، «غلط املایی» یافت می شود؟

(۱) اندر وقت دو غلام سرایی به راه کرد با فرمان ها به شحنگان نواحی تا ضیاع و عقار آن مرد باز دادند.

(۲) او را نتوانم گفتن که به سیم سخی باش، باری دون همّت مباش و جهد کن تا از صبح پادشاهی مست نگردی.

(۳) حکیمان گفته اند: چشمه امارت و خرمی عالم پادشاه دادگر است و چشمه دژمی عالم، پادشاه بیدادگر است.

(۴) بعد از آن کس را زهره نبود که بر فرمان کار نکردی و امرها نافذ گشت و مردمان در راحت افتادند.

۱۷- کدام بیت، دارای آرایه پارادوکس (متناقض‌نما) است؟

(۱) کار دوران چیست جمعیت پریشان ساختن سیل مجبور است در معموره ویران ساختن

(۲) شمع دل دمسازم بنشست چو او برخواست افغان ز نظر بازان برخاست چو او بنشست

(۳) این که گاهی می زدم بر آب و آتش خویش را روشنی در کار مردم بود مقصودم چو شمع

(۴) شادی ندارد آن که ندارد به دل غمی آن را که نیست عالم غم نیست عالمی

۱۸- بیت زیر، فاقد کدام آرایه ادبی است؟

«گفتم ز دل خویش دهان سازمت ای ماه گفتا نتوان ساخت ز یک نقطه دهانی»

(۱) تشبیه (۲) استعاره (۳) اغراق (۴) اسلوب معادله

۱۹- در بیت زیر، مفهوم کنایی «پیراهن در نیل زدن» کدام است؟

«یوسف از غیرت آن نرگس نیلوفررنگ رفت تا مصر که در نیل زند پیراهن»

(۱) مقام یافتن (۲) سوگواری کردن (۳) زندانی شدن (۴) عشق ورزیدن

۲۰- مصراع زیر، با کدام بیت، قرابت مفهومی دارد؟ {ایران عرصه}

«پاک شو اول و پس دیده بر آن پاک انداز»

(۱) او را به چشم پاک توان دید چون هلال هر دیده جای جلوه آن ماه پاره نیست

(۲) دور از رخ تو دم به دم از گوشه چشمم سیلاب سرشک آمد و طوفان بلا رفت

(۳) دیده امید را کردی سفید از انتظار دوستان را خود نبود این چشم از دلداریت

(۴) آب چشمم که بر او منت خاک در توست زیر صد منت او خاک دری نیست که نیست

❖ فصل سوم: سوالات اطلاعات عمومی و دانش اجتماعی

۱- کمترین مساحت بین استانهای ایران، متعلق به کدام استان است؟

- (۱) گیلان (۲) البرز (۳) تهران (۴) قم

❑ پاسخ سایت ایران عرضه: گزینه ۲ ⇐ استان البرز با ۵۸۳۳ کیلومتر مربع مساحت به لحاظ وسعت کوچکترین استان کشور است.

۲- قلعه دختر؛ از آثار باستانی کدام شهرستان است؟

- (۱) فیروزآباد فارس (۲) میبد یزد (۳) درود لرستان (۴) نائین اصفهان

۳- کتاب «اسلام و انسان معاصر»، اثر کیست؟ (iranarze)

- (۱) دکتر شریعتی (ره) (۲) شهید مطهری (ره)
(۳) شهید بهشتی (ره) (۴) علامه طباطبائی (ره)

۴- کدام نقاش معاصر ایرانی با تابلو «شقایق ها، جویبارها و تنه درخت»؛ تمایز سبکش با سایرین، در خلق آثار نیمه انتزاعی با فرم های هندسی است؟

- (۱) محمود جواد پور (۲) حسین بهزاد (۳) ناصر اویسی (۴) سهراب سپهری

۵- فعالیت سیاسی امام خمینی (ره)، به طور علنی از چه سالی و همزمان با کدام واقعه آغاز شد؟

- (۱) ۱۳۴۱ اعتراض به تصویب لایحه انتخابات انجمن های ایالتی و ولایتی
(۲) ۱۳۴۱-سخنرانی به مناسبت روز عاشورا و چهلم شهدای مدرسه فیضیه
(۳) ۱۳۴۲-سخنرانی به مناسبت روز عاشورا و چهلم شهدای مدرسه فیضیه
(۴) ۱۳۴۲ اعتراض به تصویب لایحه انتخابات انجمن های ایالتی و ولایتی

۶- مأموریت شورای انقلاب اسلامی؛ همزمان با کدام مناسبت به پایان رسید؟

- (۱) افتتاح مجلس خبرگان رهبری (۲) انتصاب فقهای اولین دوره شورای نگهبان

- (۳) افتتاح اولین دوره مجلس شورای اسلامی (۴) انتخاب اولین رئیس جمهور کشور

۷- کدام عملیات، با هدف تصرف جزایر مجنون و عبور از هور به انجام رسید و طی آن ؛ فرماندهان بزرگی چون حمید باکری و ابراهیم همت به شهادت رسیدند؟

- (۱) رمضان (۲) خبیر (۳) کربلا (۴) فتح المبین

۸- برای رئیس کل سازمان خصوصی سازی، به طور همزمان، چه سمت دیگری تعریف شده است؟

- (۱) ریاست شورا و مرکز ملی رقابت (۲) عضویت شورای عالی بورس و اوراق بهادار ایران
(۳) معاونت وزیر صنعت؛ معدن و تجارت (۴) معاونت وزیر امور اقتصادی-دارایی

۹- در برنامه پنج ساله ششم توسعه، منبع بیشترین سهم تأمین مالی سالانه سرمایه گذاری، کدام است؟

- (۱) شرکت ها و مؤسسات غیردولتی
(۲) تأمین مالی و سرمایه گذاری خارجی
(۳) صندوق توسعه ملی
(۴) تملک دارایی های سرمایه ای

۱۰- در نظام ریاستی؛ مجلس چگونه می تواند وزرا را استیضاح کند؟

- (۱) اساساً چنین اختیاری ندارد
(۲) پس از کسب موافقت مجلس دوم و با اکثریت نسبی
(۳) با اکثریت مطلق دو سوم نمایندگان
(۴) با اکثریت نسبی کل نمایندگان
۱۱- مجلس خبرگان رهبری؛ کدام نوع نظارت را بر نهاد رهبری انجام می دهد؟

- (۱) سیاسی، قضایی و مالی
(۲) قضایی
(۳) سیاسی
(۴) مالی و قضایی

۱۲- تعیین رئیس شورای عالی امنیت ملی، چگونه است؟

- (۱) تحت شرایط خاص (۲) انتخابی (۳) قانونی (۴) انتصابی

۱۳- کدام مورد، از رودخانه های حوضه آبریز خلیج فارس است؟

- (۱) ارس (۲) قره سو (۳) هندیجان (۴) قزل اوزن

۱۴- کدام سایت باستان شناسی با قدمت بیش از ۵ هزار سال، در استان سمنان واقع شده است؟

- (۱) تپه حصار (۲) شهر سوخته (۳) تپه سیلک (۴) تپه مارلیک

۱۵- پیکر جهان پهلوان تختی در کجا به خاک سپرده شده است؟

- (۱) تبریز (۲) شهر ری (۳) مشهد (۴) اصفهان

۱۶- کتاب اسرارنامه اثر کیست؟

- (۱) ابوریحان بیرونی (۲) زکریای رازی (۳) عبدالرحمن جامی (۴) عطار نیشابوری

۱۷- نام اختصاری صندوق کودکان سازمان ملل متحد چیست؟

- (۱) یونیدو (۲) یونسکو (۳) یونیسف (۴) آیسیسکو

۱۸- پرجمعیت ترین کشور اسلامی کدام است؟

- (۱) مالزی (۲) اندونزی (۳) مصر (۴) ایران

۱۹- نخستین عملیات گسترده آبی خاکی ایران در جنگ تحمیلی کدام مورد بوده است؟

- (۱) ضربت ذوالفقار (۲) طریق القدس (۳) خیبر (۴) فتح المبین

۲۰- «انقلاب فرهنگی» در جمهوری اسلامی ایران، در کدام سال آغاز شد؟

- (۱) ۱۳۵۹ (۲) ۱۳۶۲ (۳) ۱۳۶۸ (۴) ۱۳۷۱

❖ فصل چهارم: سوالات قوانین و مقررات اداری و قانون اساسی

◀ بخش اول: قانون اساسی

۱- طبق قانون اساسی کرامت و ارزش والای انسان و آزادی توأم با مسئولیت او در برابر خدا از کدام یک از راه‌های زیر کسب می‌شود؟ (منبع ایران عرضه)

(۱) اجتهاد مستمر فقهای جامع الشرایط بر اساس کتاب و سنت معصومین

(۲) استفاده از علوم و فنون و تجارب پیشرفته بشری

(۳) نفی هرگونه ستمگری و ستم کشی و سلطه‌گری و سلطه‌پذیری

(۴) همه موارد

❑ پاسخ سایت ایران عرضه: گزینه ۴ ← کرامت و ارزش والای انسان و آزادی توأم با مسئولیت او در برابر خدا که از راه:الف)

اجتهاد مستمر فقهای جامع الشرایط بر اساس کتاب و سنت معصومین ب) استفاده از علوم و فنون و تجارب پیشرفته بشری

ج) نفی هرگونه ستمگری و ستم کشی و سلطه‌گری و سلطه‌پذیری

۲- طبق اصل سوم قانون اساسی تنظیم سیاست خارجی کشور بر اساس کدام یک از موارد زیر انجام می‌گردد؟

(۱) معیارهای اسلام (۲) تعهد برادرانه نسبت به همه مسلمانان

(۳) حمایت بی‌دریغ از مستضعفان جهان (۴) همه موارد

۳- در جمهوری اسلامی ایران امور کشور باید با اتکا به کدام یک از موارد زیر اداره شود؟ (تهیه شده توسط ایران عرضه)

(۱) به اتکا آرای عمومی (۲) از راه انتخابات (۳) از راه همه‌پرسی (۴) همه موارد

۴- هر کس حق دارد شغلی را که بدان مایل است و مخالف نیست برگزیند ؟

(۱) مبانی اسلام یا حقوق عمومی (۲) موازین اسلام

(۳) اسلام و نظم عمومی (۴) اسلام و مصالح عمومی و حقوق دیگران

۵- است و هیچکس از نظر قانون مجرم شناخته نمی‌شود، مگر اینکه جرم او در دادگاه صالح ثابت گردد؟

(۱) اصل عدم (۲) اصل برائت

(۳) اصل صحت (۴) اصل اصالت و اعتبار

۶- مطابق با اصل ۱۱۲ قانون اساسی مقررات مربوط به مجمع تشخیص مصلحت نظام باید به تایید کدام مرجع زیر برسد؟

(۱) مجلس شورای اسلامی (۲) مقام رهبری

(۳) مجلس خبرگان (۴) شورای نگهبان

۷- اعضای حقوقدانان شورای نگهبان توسط معرفی می‌شوند.

(۱) رهبر (۲) نمایندگان مجلس (۳) شورای نگهبان (۴) رئیس قوه قضائیه

بخش دوم: بیانیه گام دوم

۱- کدامیک از موارد زیر از آرمان های دومین مرحله انقلاب اسلامی است؟

- (۱) خودسازی (۲) جامعه پردازی (۳) تمدن سازی (۴) همه موارد

❑ پاسخ سایت ایران عرضه: گزینه ۴ ❑ خودسازی و جامعه پردازی و تمدن سازی از آرمان های دومین مرحله انقلاب اسلامی است.

۲- از نظر مقام معظم رهبری در بیانیه گام دوم انقلاب اگر جامعه به زیر گرفتار شود، خوشی و خیر نمی بیند.

- (۱) عدم توجه به حيله ها و ترفندهای دشمن (۲) نبود فرهنگ

- (۳) فساد و بی عدالتی (۴) عدم توجه به علم و دانش

۳- بر اساس گام دوم انقلاب، مهمترین خصوصیات شعارهای انقلابی چیست؟ - ناشر ایران عرضه -

- (۱) شعارهایی مربوط به یک نسل و یک جامعه هستند

- (۲) شعارهایی با طول عمر مفید هستند

- (۳) شعارهایی فطری و جهانی هستند

- (۴) شعارهای اصیل ایرانی- اسلامی می باشند

۴- شعار شکل دهنده انقلاب اسلامی است.

- (۱) عدالت (۲) اقتصاد (۳) آزادی (۴) استقلال

۵- ترکیب انقلاب (که مستلزم جوشش انقلابی است) و نظام سازی (که مستلزم نظم سیاسی و اجتماعی است) در کدام

نظریه جمع بندی شده است؟

- (۱) انقلاب و نظام دو تعبیر متضاد بوده و جمع کردن آنها ممکن نیست.

- (۲) نظریه پویایی و ایستایی

- (۳) نظریه نظام انقلابی

- (۴) نظریه نهضت و نهاد

۶- پایان درس نگرفتن از وقایع گذشته چیست؟

- (۱) اینکه حقیقت را از دشمن بشنویم (۲) آینده مورد تهدیدهای ناشناخته قرار خواهد گرفت

- (۳) دروغ ها به جای حقیقت خواهند نشست (۴) ۲ و ۳

۷- رژیم طاغوت رژیم سلطنتی در ایران بود که به دست بیگانه - ونه به زور شمشیر خود - بر سر کار آمده بود.

- (۱) سومین (۲) دومین (۳) اولین (۴) چهارمین

بخش سوم: برنامه هفتم توسعه

۱- بیمه پردازی که ۲۵ تا ۲۸ سال تمام سابقه خدمت دارند به سنوات الزامی اشتغال آنان برای بازنشستگی به ازای هر سال تا زمان بازنشستگی چقدر اضافه می شود؟

(۱) اضافه نمی گردد (۲) ۲ ماه (۳) ۳ ماه (۴) ۴ ماه

❑ پاسخ سایت ایران عرضه: گزینه ۲ ➡ بندالحاقی- به منظور کاهش نا ترازی صندوق های بازنشستگی و تقویت توان صندوق ها در انجام تکالیف محول شده از ابتدای سال اول اجرای برنامه:

۱- بیمه پردازی که بیش از ۲۸ سال تمام سابقه خدمت دارند به سنوات الزامی اشتغال آنان برای بازنشستگی اضافه نمیگردد.

۲- بیمه پردازی که از ۲۵ تا ۲۸ سال تمام سابقه خدمت دارند به سنوات الزامی اشتغال آنان برای بازنشستگی به ازای هر سال تا زمان بازنشستگی دو ماه اضافه میگردد.

۳- بیمه پردازی که از ۲۰ تا ۲۵ سال تمام سابقه خدمت دارند به سنوات الزامی اشتغال آنان برای بازنشستگی بهازای هر سال تا زمان بازنشستگی سه ماه اضافه میگردد.

۴- بیمه پردازی که از ۱۵ تا ۲۰ سال تمام سابقه خدمت دارند به سنوات الزامی اشتغال آنان برای بازنشستگی به ازای هر سال تا زمان بازنشستگی چهار ماه اضافه میگردد.

۵- بیمه پردازی که مطابق قوانین کمتر از ۱۵ سال تمام سابقه خدمت دارند به سنوات الزامی اشتغال آنان برای بازنشستگی پنج سال اضافه میگردد.

۲- در راستای پایداری صندوق های بیمه ای و بازنشستگی و کاهش وابستگی آنها به بودجه عمومی، قانون بودجه سال ۸۶ و بند ب ماده ۷ هدفمند کردن یارانه ها، منوط به کدام عامل زیر است؟ (منبع ایران عرضه)

(۱) ارزیابی آزمون وسع توسط وزارت تعاون، کار و رفاه اجتماعی

(۲) خود اظهاری مالیاتی مشاغل مختلف

(۳) قرار گرفتن در چهار دهک اول درآمدی

(۴) ۱ و ۳

۳- معافیت بیست درصد (۲۰٪) سهم کارفرمایی موضوع قانون معافیت ازپرداخت سهم بیمه کارفرمایانی که حداکثر پنج نفر کارگر دارند، برای کارفرمایانی که درآمد سالانه آنها از پانزده برابر معافیت موضوع ماده (۸۴) قانون مالیات های مستقیم بیشتر است، چه میزان کاهش می یابد؟

(۱) سالانه نیم واحد درصد در طول اجرای برنامه

(۲) سالانه ۱ واحد درصد در طول اجرای برنامه

(۳) سالانه ۲ واحد درصد در طول اجرای برنامه

(۴) ۵ واحد درصد در طول اجرای برنامه

۴- دولت موظف است علاوه بر پرداخت یارانه فعلی هر سال حداقل مستمری خانواده های مددجویان تحت حمایت کمیته امداد امام خمینی ره و سازمان بهزیستی کشور را بر مبنای متوسط چند درصد حداقل دستمزد مصوب شورای عالی کار در چارچوب بودجه سنواتی قرار دهد؟

- (۱) ۱۰ درصد (۲) ۱۵ درصد (۳) ۲۰ درصد (۴) ۲۵ درصد

۵- هدف از تنظیم برنامه آمایش هر منطقه توسط وزارت جهاد کشاورزی چه می باشد؟

- (۱) بهبود صادرات محصولات کشاورزی (۲) افزایش ضریب خود کفایی
(۳) تخصیص بودجه ای به بخش کشاورزی (۴) بهبود و توسعه سطح اقتصادی کشور

۶- تولید و صادرات محصولات در مناطق گلخانه ای بزرگ مقیاس تابع کدام مقررات است؟

- (۱) تابع کلیه مقررات مناطق ویژه اقتصادی (۲) تابع مقررات منابع آزاد
(۳) تابع قوانین اماکن حفاظت شده (۴) سامانه کشاورزی هوشمند پیشرفته آبیاری زیر زمینی

۷- اجرای عملیات آبخیزداری و آبخوان داری در چهارچوب طرح های مصوب ملی و استانی با تایید کدام نهاد به عنوان هزینه قابل قبول مالیاتی محسوب میشود؟

- (۱) وزارت نیرو (۲) وزارت جهاد کشاورزی
(۳) سازمان منابع طبیعی و آبخیزداری کشور (۴) همه موارد

❖ فصل پنجم: سوالات ریاضی و آمار مقدماتی

۱- در جدول زیر بجای علامت سوال کدام گزینه را می توان قرار داد؟

۱	۳۱	۲
۲	۵۲	۳
۳	۶۳	؟

(۱) ۳

(۲) ۲

(۳) ۴

(۴) ۱

❑ پاسخ سایت ایران عرضه: گزینه ۱ ⇐ اگر به اعداد ستون وسط در جدول توجه کنیم متوجه می شویم که رقم دهگان از حاصل جمع اعداد موجود در ستون های کناری بدست آمده است. به طور مثال داریم:

$$\underline{31} = 1 + 2$$

$$\underline{52} = 2 + 3$$

$$\underline{63} = 3 + 3$$

۲- ۱۱۴۰ ثانیه دیگر ساعت ۵ و ۳۰ دقیقه خواهد شد. الان ساعت چند است؟ (iranarze.ir)

(۱) چهار و یازده دقیقه

(۲) پنج و چهل و نه دقیقه

(۳) پنج و یازده

(۴) چهار و پنجاه و یک دقیقه

۳- سعید بلندتر از مسعود و کوتاه تر از حمید است، حامد کوتاه تر از سعید اما بلندتر از مسعود است. قد کدام یک بلندتر از همه است؟

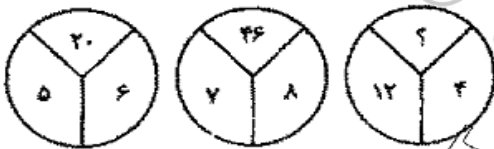
(۱) حمید

(۲) سعید

(۳) حامد

(۴) مسعود

۴- با توجه به شکل های مقابل مقدار؟ را بیابید:



(۱) ۱۶

(۲) ۱۸

(۳) ۳۸

(۴) ۵۸

۵- در دنباله حروف زیر حرف مجهول چه حرفی است؟ «ژ، ص، ر، ط، د، ع،؟»

(۱) ج

(۲) چ

(۳) ح

(۴) خ

۶- اگر تعداد زیر مجموعه های مجموعه M از تعداد زیر مجموعه های $A = \{1, 2, 3\}$ 8 زیر مجموعه بیشتر باشد. M چند عضو دارد؟

(۱) ۳

(۲) ۴

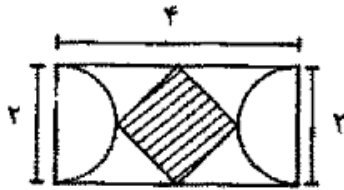
(۳) ۵

(۴) ۶

۸- اگر تمامی داده های آماری را دو برابر کنیم مد و میانه حاصل چگونه اند؟

- (۱) مد ثابت و میانه دو برابر می شود.
(۲) مد و میانه هر دو دو برابر می شوند.
(۳) مد دو برابر و میانه ثابت می ماند.
(۴) مد دو برابر و میانه نصف می شود.

۱۰- با توجه به شکل مقابل مساحت چهار ضلعی وسطی چند است؟



(۱) ۱

(۲) ۲

(۳) $\sqrt{3}$

(۴) ۴

۱۱- اگر A و B دو مجموعه ناتهی باشند، مجموعه $A - (A \cap B)$ کدام است؟

(۱) $A \cap B$ (۲) $A \cap B'$ (۳) $B \cap A'$ (۴) $(A \cup B)'$

۱۲- اگر تابع $f(x) = \sqrt{2x} - 1$ و $g(x) = x^2 + 1$ باشد، مقدار (gof) به مقدار $x=2$ کدام است؟

(۱) ۱ (۲) ۲ (۳) ۳ (۴) ۴

۱۳- مجموع ده جمله اول تصاعد هندسی $\{3, 6, 12, \dots\}$ کدام است؟

(۱) ۳۰۹۶ (۲) ۳۰۶۹ (۳) ۶۹۳۰ (۴) ۹۶۳۰

۱۴- جواب های معادله $\begin{cases} 5x + 2y = 19 \\ 4x + 3y = 18 \end{cases}$ کدام است؟ (منبع ایران عرضه)

(۱) $x = -3, y = 2$ (۲) $x = 2, y = 3$

(۳) $x = -3, y = -2$ (۴) $x = 3, y = 2$

۱۵- جواب های معادله درجه دوم $x^2 - 5x + 6 = 0$ کدامند؟

(۱) $x_1 = 1, x_2 = 2$ (۲) $x_1 = 3, x_2 = 2$ (۳) $x_1 = 2, x_2 = 4$ (۴) $x_1 = 3, x_2 = 4$

۱۶- اگر به مجموعه A چهار عضو اضافه کنیم، تعداد زیر مجموعه آن چند برابر می شود؟

(۱) ۴ (۲) ۸ (۳) ۱۶ (۴) ۳۲

۱۷- در صورتی که متغیر پیوسته و یا تعداد مشاهدات زیاد باشد، استفاده از کدام نمودار بهتر است؟

(۱) هیستوگرام (۲) ستونی (۳) میله ای (۴) دایره ای

۱۸- اگر دو مجموعه A و B نامتنه ای و مجموعه C متناهی باشد، کدام یک از مجموعه های زیر، قطعاً نامتناهی است؟

(۱) $(A-C) \cup B$ (۲) $(A \cap B) - C$ (۳) $C - (A \cup B)$ (۴) $A - (B \cup C)$

۱۹- میانگین ۳۰ داده آماری برابر ۱۵ و انحراف معیار آنها برابر $1/5$ است، درصد ضریب تغییرات آنها چقدر است؟

(۱) ۲۰ (۲) ۱۵ (۳) ۱۲ (۴) ۱۰

۲۰- به چند طریق می توان از اعداد صفر تا ۹ شماره تلفن ۸ رقمی ساخت؟

(۱) 10^8 (۲) 10×9^9 (۳) 9×10^7 (۴) 9×10^{10}

❖ فصل ششم: سوالات توانمندی های ذهنی و ویژگی های رفتاری

راهنمایی: متن زیر را به دقت خوانده و صحیح ترین پاسخ را برای سوال های ۱ تا ۴ انتخاب کنید

به باور متخصصان، طراحی شهری حدود پنجاه سال پیش، به صورت حوزه ای نسبتاً مستقل با هدف انتقاد به معماری مدرن در کشورهای فراصنعتی شکل گرفت. از حدود یک دهه پس از آن، اولین متون مرتبط با این دانش به صورت ترجمه شده در متون علمی ایران وارد شد. [۱] از این دوران به بعد، کتاب های چندی توسط شهرسازان، طراحان شهری معماران تألیف، ترجمه و گردآوری شد. مقایسه متون طراحی شهری ایران با منابع متنوعی که در حوزه جهانی طراحی شهری انتشار یافته، نشان می دهد تألیف های صورت گرفته در ایران در جهت زایش علمی - به گونه ای که به عنوان مرجع طراحی شهری در مجامع علمی جهانی مورد استفاده قرار گیرند - نبوده است. لذا ابتدا وضعیت دانش طراحی شهری در ایران با تأکید بر مقایسه تحلیلی با متون جهانی در حوزه های نظری و علمی بررسی گردیده است. از این منظر زمان پیدایش هر یک از حوزه ها در ایران نیز مورد مداقه قرار گرفت. [۲] تعادل میان مباحث مختلف دانش در ایران سنجیده شد. بنابراین سعی بر این بوده است نقاط قوت و ضعف متون طراحی شهری در ایران سنجیده شود تا مقدمه ای برای پیشرفت دانش و یا بازنگری در جهت گیری موجود فراهم آید.

بررسی وضعیت و طبقه بندی متون جهانی طراحی شهری به طرق گوناگونی انجام شده، اما تاکنون چنین بررسی در مورد ایران صورت نگرفته است. [۳] ضرورت چنین مطالعه ای این است که با وجود گذشت چهار دهه از ورود این دانش به ایران که مدت زمان قابل توجهی برای مناسب سازی و تولید دانش بوده است، این دانش در وضعیت مطلوبی قرار ندارد و این به معنای وجود مسئله ای در ساختار تولید دانش است. احتمالاً اگر روند کنونی ادامه یابد، طراحی شهری ایران از زایش علمی مطلوبی باز می ماند و با جهت گیری نادرست پژوهش ها، کمبودها در حوزه های مختلف پررنگ تر می شود. [۴] لذا این بحث، بدنه متون طراحی شهری در ایران و همچنین ضعف های آن را به دانشجویان و دانش پژوهان برای انجام مطالعات و تحقیقات علمی معرفی کرده و راهکارهایی برای غلبه بر ضعف ها ارائه نموده است.

۱- بر اساس متن، کدام مورد در خصوص طراحی شهری در ایران صحیح است؟ (تنظیم توسط فروشگاه ایران عرضه)

(۱) از منظر تولید دانش، به مرحله رشد و پویایی نرسیده است.

(۲) منبع الهام معماری مدرن در کشورهای فراصنعتی بوده است.

(۳) علی رغم پیشرفت در حوزه علمی، در حوزه های نظری وضعیت مطلوبی ندارد.

(۴) در چند دهه گذشته، شاهد نوآوری هایی بوده است.

۲- معنی واژه «مداقه» در پاراگراف اول کدام است؟

(۱) قبول (۲) نقد (۳) توجه (۴) مقایسه

۳- جمله زیر، در کدام یک از بخش های متن که با شماره مشخص شده اند، قرار می گیرد؟

«به عبارتی دیگر، یکی از ضرورت های بحث، تعیین حوزه های مهم لحاظ نشده در ایران، در مقایسه با مهم ترین منابع طراحی شهری دنیا است.»

(۴) [۴]

(۳) [۱]

(۲) [۲]

(۱) [۳]

۴- موضوع اصلی پاراگراف بعد از متن، کدام است؟

(۱) بررسی تحلیلی متون طراحی شهری در ایران

(۲) معرفی ضعف های موجود در منابع طراحی شهری دنیا

(۳) تحقیقات انجام شده در حوزه طراحی شهری در ایران

(۴) راهکارهایی برای افزایش تولید دانش در ایران

راهنمایی: برای پاسخگویی به سوال های ۵ تا ۸ لازم است موقعیتی را که در هر سؤال مطرح شده، مورد تجزیه و تحلیل قرار دهید و سپس گزینه ای را که فکر می کنید پاسخ مناسب تری برای آن سؤال است، انتخاب کنید. هر سوال را با دقت بخوانید و با توجه به واقعیت های مطرح شده در هر سوال و نتایج که بیان شده و بیان نشده ولی قابل استنتاج است، پاسخی را که صحیح تر به نظر می رسد، انتخاب کنید

۵- کار خیر آسانی که امروز می خواهیم پیشنهاد کنیم، تعریف کردن از کارهای دیگران و تایید کردن آنهاست. پس امروز سعی می کنیم که اگر کسی را می شناسیم که کار خیری کرده است یا اگر در خانه، همسر یا فرزندان کار خوبی انجام می دهند، از انجام آن کار، حتی اگر دقیق و عالی نبوده، تعریف کنیم و بگوییم که تا چه حد کارشان مؤثر است.

کدام مورد، در صورتی که صحیح فرض شود، به بهترین وجه، توصیه مطرح شده در متن را تقویت می کند؟

(۱) بسیاری از افراد، آنقدر درگیر مسائل شخصی خود هستند که از کارکرد اطرافیان شان غافل می مانند.

(۲) تحقیقات نشان می دهد که افرادی که از دیگران تعریف می کنند، بیشتر زبردستان هستند و نه بالا دستی ها.

(۳) تعریف کلامی از کار خوب دیگران، اگر با جایزه ای خاص، مثلاً پاداش ملی همراه باشد، کارایی بیشتری در افزایش بهره وری افراد دارد.

(۴) آدم ها نیاز به تأیید شدن دارند و این تأیید شدن از سوی دیگران، حال خوبی به آنها می دهد.

۶- اگر در حال حاضر، دانشجوی کارشناسی بیمه یا یکی از رشته های مرتبط با آن هستید یا تصمیم دارید وارد این رشته شوید، بد نیست کمی درباره بازار کار و آینده شغلی آن بدانید. یک کارشناس بیمه معمولاً در شرکت های بیمه ای دولتی یا خصوصی یا نمایندگی های آنها مشغول به کار می شود. بسیاری از کارهای کارشناس بیمه در داخل شرکت انجام می گیرد، اما گاهی لازم است برای ارزیابی، شخصاً به محل مورد نظر خارج از شرکت مراجعه کند. کدام مورد، یک فرض مستتر در استدلال فوق است؟

(۱) کسانی که با توجه به علاقه خود، رشته مورد نظرشان را انتخاب کنند، در شغل آینده خود، موفق تر از بقیه خواهند بود.

(۲) کسی در بازار کار موفق می شود که رشته تحصیلی خود را با توجه به علاقه و استعداد ذاتی خود انتخاب کند.

۳) یکی از مولفه های انتخاب رشته، باید با توجه به بازار و شرایط کاری آن باشد.

۴) رشته بیمه یا رشته های مرتبط، در صورتی که با آگاهی کامل انتخاب شده باشند، ضمانت شغلی نیز به دنبال خود می آورند.

۷- اگر داشتید از پیاده رویی رد می شدید و دیدید که گروهی، کنار خیابان، موسیقی زنده اجرا می کنند، صبر کنید بایستید و به صدای سازشان گوش کنید. آنها برای شما می زنند

کدام مورد. به منطقی ترین شکل، جای خالی در متن فوق را کامل می کند؟

۱) چون شما و آنها از یک جنس هستید

۲) ولی خود نیز این را نمی دانند

۳) و این کنسرتی، برای شما یک نفر است

۴) و به تعبیری ساعت ها برای این کار تمرین کرده اند

۸- اصولاً چه ارتباطی میان رنج و هرروزینگی است؟ به نظر می رسد که رنج، استثنایی بر قاعده هر روزه است، پس رابطه میان رنج و هرروزینگی، همان رابطه میان استثنا و قاعده است، اما برخلاف آنچه معمولاً می پنداریم، استثنا قاعده را نقض نمی کند، بلکه آن را به نهایت خویش می رساند. استثنا حدّ قاعده است و حدّ هرچیز، حقیقت آن چیز است و اگر متن یک چیز در حدّش نقض می شود، صرفاً به آن خاطر است که آن چیز در متن خویش، حامل تناقض است وگرنه حد کاری نکرده است، مگر تکرار بی لکنت متن. کدام مورد، با نتیجه گیری متن مغایرت دارد؟

۱) حدّ هر چیز، متن آن چیز را نقض نمی کند.

۲) رنج، هویتی مستقل از هرروزینگی دارد.

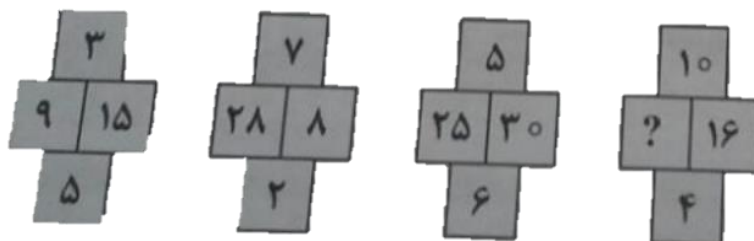
۳) برخی حدّ هر چیز را به غلط، استثنای قاعده می دانند.

۴) استثنا را نباید جزو لاینفک قاعده دانست.

راهنمایی: هر کدام از سوال های ۹ تا ۱۴ را به دقت بخوانید و جواب هر سوال را انتخاب نمایید

۹- در هر کدام از شکل های زیر، ارتباط خاص و مشترکی بین اعداد برقرار است. به جای علامات سؤال، کدام عدد باید قرار

بگیرد؟



۲۰ (۱)

۳۰ (۲)

۴۰ (۳)

۱۰ (۴)

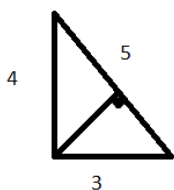
۱۰- اگر پرینتر A نسبت به پرینتر B، ۲۵ درصد سریع تر باشد و پرینتر A در هر دقیقه ۲۰ برگ پرینت بگیرد، پرینتر B، ۴۰۰ برگ را در چند دقیقه پرینت می گیرد؟

- (۱) ۱۶ (۲) ۲۰ (۳) ۲۵ (۴) ۱۵

۱۱- دو نوع چای به قیمت هر کیلوگرم ۱۵ و ۲۰ هزار تومان را به ترتیب به چه نسبت هایی مخلوط کنیم تا چای با قیمت ۱۶۵۰۰ تومان برای هر کیلوگرم حاصل شود؟ (iranarze.ir)

- (۱) ۳ به ۱ (۲) ۵ به ۲ (۳) ۵ به ۳ (۴) ۷ به ۳

۱۲- اگر نسبت طول اضلاع یک مثلث قائم الزاویه ۳ به ۴ باشد، نسبت طول ارتفاع وارد بر وتر به طول وتر این مثلث، کدام است؟



- (۱) ۱۳ به ۳۰

- (۲) ۱۲ به ۲۵

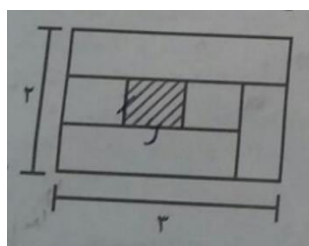
- (۳) ۱۲ به ۳۵

- (۴) ۱۳ به ۲۵

۱۳- مقداری جو و گندم به نسبت های ۵ و ۷ کاملاً مخلوط شده اند. پس از آنکه ۹ کیلوگرم از مخلوط را برداشته و به جای آن به همان مقدار جو بریزیم، نسبت جو به گندم ۹ به ۷ می شود. نهایتاً این مخلوط چند کیلوگرم گندم خواهد داشت؟

- (۱) ۱۰۳۵ (۲) ۱۸۹ (۳) ۳۲۴ (۴) ۱۳۵

۱۴- نسبت طول به عرض مستطیل زیر که با خطوطی به ۶ قسمت با مساحت های مساوی تقسیم شده است، ۲ به ۳ می باشد. نسبت طول به عرض مستطیل هاشور خورده، کدام است؟



- (۱) ۱۶ به ۲۵

- (۲) ۴ به ۹

- (۳) ۱ به ۴

- (۴) ۹ به ۱۶

راهنمایی: با توجه به اطلاعات و نمودارهای زیر، به سوال های ۱۵ و ۱۶ پاسخ دهید.

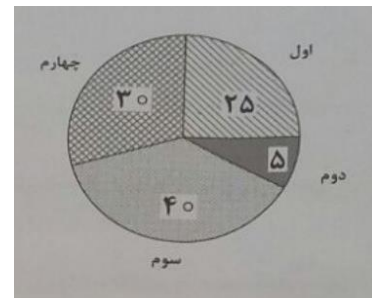
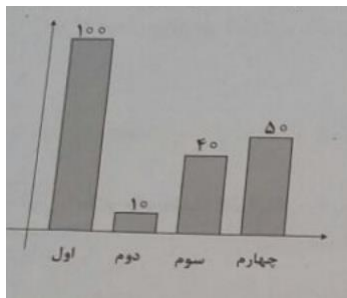
در یک روز برفی، تعدادی از دانش آموزان دبستان یک روستا که دارای چهار کلاس اول، دوم، سوم و چهارم است، غیبت می کنند. نمودار سمت چپ، درصد تعداد غایبین هر کلاس نسبت به کل تعداد دانش آموزان همان کلاس و نمودار سمت راست، درصد تعداد غایبین هر کلاس نسبت به کل تعداد غایبین آن دبستان را نشان می دهد.

درصد تعداد غایبین هر کلاس نسبت

درصد تعداد غایبین هر کلاس

به کل دانش آموزان همان کلاس

به کل تعداد غایبین دبستان



۱۵- نسبت تعداد حاضرین کلاس دوم به حاضرین کلاس چهارم، کدام است؟

- (۱) ۳ به ۱ (۲) ۳ به ۲ (۳) ۹ به ۵ (۴) ۲ به ۱

۱۶- اگر ۱۲ دانش آموز سر کلاس سوم حاضر باشند، آن دبستان دارای چند دانش آموز کلاس اولی است؟

- (۱) ۶ (۲) ۱۲ (۳) ۱۵ (۴) ۵

راهنمایی: با توجه به اطلاعات زیر، به سوال های ۱۷ تا ۲۰ پاسخ دهید.

در هر طبقه یک ساختمان چهار طبقه، یک کنتور برق نصب شده است. هر کدام از کنتورها دارای یکی از برچسب های A، B، C و D می باشد که روی آن، یکی از کدهای ۲۱۵، ۲۱۶، ۲۱۷ و ۲۱۸ نوشته شده است. اطلاعات زیر، درباره اینکه هر کنتور متعلق به کدام طبقه است و دارای کدام برچسب یا کد است، در دست می باشد.

کنتورهای B و D، متعلق به دو طبقه متوالی هستند.

کدهای ۲۱۷ و ۲۱۵، به ترتیب متعلق به کنتور C و کنتور طبقه چهارم است.

۲۱۶ نه کد کنتور طبقه اول است و نه کد کنتور D.

۱۷- اگر کنتور طبقه دوم دارای برچسب D باشد، کدام مورد صحیح است؟

- (۱) برچسب کنتور طبقه چهارم، A است. (۲) برچسب کنتور طبقه اول، A است.

- (۳) کد کنتور طبقه اول، ۲۱۸ است (۴) کد کنتور طبقه سوم، ۲۱۸ است.

۱۸- اگر کد کنتورهای طبقه دو و سوم به ترتیب ۲۱۶ و ۲۱۷ باشد، برچسب A مربوط به کنتور کدام طبقه است؟

- (۱) چهارم (۲) اول (۳) دوم (۴) سوم

۱۹- اگر کنتور طبقه چهارم دارای برچسب B باشد، هم کد و هم برچسب روی چند کنتور، به طور قطع مشخص می شود؟

- (۱) ۲ (۲) ۳ (۳) ۴ (۴) ۱

۲۰- اگر برچسب B و کد ۲۱۶ متعلق به دو کنتور از دو طبقه متوالی باشند، برچسب کنتور طبقه دوم کدام است؟

- (۱) B (۲) C (۳) D (۴) A

❖ فصل هفتم: سوالات زبان انگلیسی عمومی

1- jeremy put in extra hours this afternoon tofor his late arrival to work this morning.

- 1) collaborate 2) alleviate 3) accelerate 4) compensate

❑ پاسخ سایت ایران عرضه: گزینه ۴ ← عبارت compensate for به معنی جبران کردن میباشد.

جرمی با توجه به دیر رسیدنش به سرکار در صبح امروز؛ ساعت بیشتری از بعد از ظهر را برای جبران کردن آن می ماند.

2-i would not have been able to..... my academic goals without that support and guidance of my professors. {iranarze.ir}

- 1) attain 2) assist 3) assign 4) annex

3- since tom never wears shoes, it wasthat he would get a piece of glass in his foot.

- 1) fashionable 2) profitable 3) capable 4) inevitable

4- as a result of, an item that used to cost eighty cents now cost on dollar and fifty cents.

- 1) instruction 2) inhibition 3) inflation 4) inspection

part b: reading comprehension

directions: read the following passage and select the choice (1), (2), (3) or (4) that best answers each question. then mark the correct choice on your answer sheet.

karl friedrich benz was a mechanical engineer who designed and built the world`s first practical automobile to be powered by an internal-combustion engine.in 1883 he founded benz & co. in mannheim to build stationary internal-combustion engines, but he was completely dedicated to the proposition that the internal-combustion engine would supersede the horse and revolutionize the world`s transportation. he persisted in his effort to build a gasoline fueled vehicle in the face of many obstacles, including lack of money to the point of poverty and the bitter objections of his associates, who considered him in competent.

benz ran his first car, a three wheeler powered by a two-cycle, one-cylinder engine, on a happy and triumphant day early in 1885. he circled a cinder track beside his small factory, his workmen running beside the car, his wife running too, clapping her hands; the little machine made four circuits of the track, stalling only twice before a broken chain stopped it. even max rose, benz`s skeptical partner, whose money had made the car possible, conceded that he was mildly impressed; but he remained convinced to the end of his association with benz that there was no future in the horseless carriage.the original benz three-

wheeled vehicle, the motor wagen, is now preserved in munich. although it first ran early in 1885, its design was not patented until jan. 29, 1886.

5- what is the passage mainly about?

- 1) karl benz`s effort to make the first automobile.
- 2) karl benz`s personal life
- 3) karl benz`s talent in engineering
- 4) karl benz`s factory in mannheim.

6- what does the word "supersede" in paragraph 1 mean?

- 1) rival
- 2) improve
- 3) replace
- 4) defeat

7- which of the following statement about karl benz can be inferred from the passage?

- 1) no one ever objected to him
- 2) he had no financial difficulty.
- 3) his partners believed in him.
- 4) he was approved by his wife.

8- which of the following is not true about benz`s motorwagen?

- 1) it was patented about a year after it first ran.
- 2) it was bought by max rose.
- 3) it first ran near his factory
- 4) it had a one-cylinder engine.

part a': grammar & vocabulary

directions: choose the word or phrase (1), (2), (3) or (4) that best completes each sentence.

then mark the correct choice on your answer sheet.

9-..... that only specialists can fathom its complexities

- 1) very difficult science has become
- 2) too difficult science has become
- 3) so difficult has science become
- 4) such a difficult has science become

10- geothermal energy---and in particular, the price of it--- does not depend on the world`s economic and political situation as fossil fuels do.

- 1) strongly as
- 2) stronger than
- 3) strong as
- 4) strongly than

11- one of the features of the zika virus posing difficulties for its diagnostics is that only one out of four..... by an infection-transmitting mosquito develops any symptoms.

- 1) people who bitten 2) people bitten
3) people are bitten 4) whose people bitten

12- the most common data official statistics, which are collected as part of the operation of criminal justice agencies.

- 1) to be used in criminological research that are
2) which are used in criminological research that
3) used in criminological research ar
4) are used in criminological research that

13- the ending of the movie was totally i guess we have to decide for ourselves what really happened (i r a n a r z e)

- 1) miraculous 2) prosperous 3) hazardous 4) ambiguous

14- emma endured a great deal of when her peers made fun of her in the office.

- 1) contamination 2) humiliation 3) acquisition 4) stimulation

15- when studying at school, it is essential to between what information is important and what information is not.

- 1) cooperate 2) terminate 3) accumulate 4) discriminate

16- the media is going to the killer as a victim of society`s avoidance of mental health issues.

- 1) portray 2) assimilate 3) broaden 4) disperse

part b: reading comprehension

directions: read the following passage and select the choice (1), (2), (3) or (4) that best answers each question. then mark the correct choice on your answer sheet.

regular exercise may offer some protection against alzheimer`s disease, even for people who are genetically at risk, according to recent research, in the study published in the journal of alzheimer`s disease, people who did more moderate-intensity physical activity were more likely to have healthy patterns of glucose metabolism in their brains – a sign of healthy brain activity – than those who did less. light –intensity physical activity. on the other hand, was not associated with similar benefits.

the study involved 93 adults with an average age of 64, all of whom had at least one parent with alzheimer`s disease, at least one gene variation linked to alzheimer`s disease, or both. this put them at

high risk for developing the disease themselves, although none showed any cognitive impairment at the time of the study.

to illuminate the relationship between brain activity and exercise levels, everyone wore an accelerometer for a week to measure their daily physical activity and received pet scans to measure glucose metabolism, which reveals neuron health and activity, in several regions of the brain. for people with alzheimer's disease, these regions tend to have depressed glucose metabolism.

researchers found that people who spent at least 68 minutes a day engaged in physical activity at a moderate level – the equivalent of a brisk walk – had better glucose metabolism in all of those regions than those who spent less time doing so. the amount of time spent being sedentary or doing less-intense physical activity (like slow walking) were not associated with changes in any of the brain regions studied.

17- what is the passage mainly about?

- 1) light-intensity versus moderate-intensity physical activity.
- 2) relationship between regular exercise and alzheimer's disease.
- 3) glucose metabolism in human brain.
- 4) people vulnerable to alzheimer's disease.

18- all of the following are true about the people who participate in this study except they..... .

- 1) all showed symptoms of cognitive impairment.
- 2) had at least one gene variation associated with alzheimer's disease.
- 3) all had an at least one parent with alzheimer's disease.
- 4) had an average age of 64.

19- which of the following statements is true?

- 1) people who walk briskly are more likely to suffer alzheimer's disease than those who do not.
- 2) people who are genetically at risk of alzheimer's disease should spend 68 minutes a day doing physical activity.
- 3) people suffering from alzheimer's disease have diminished glucose metabolism.
- 4) people suffering from alzheimer's disease should always wear an accelerometer.

20- which of the following is closest in meaning to the word "sedentary" in paragraph 4?

- 1) exhausted
- 2) depressed
- 3) sick
- 4) inactive

❖ فصل هشتم: سوالات فناوری اطلاعات

۱- کدام مورد، می تواند یک کامپیوتر را آلوده به ویروس کند؟

- (۱) اضافه کردن امضای الکترونیکی به یک پیام
(۲) باز کردن فایل الحاقی به یک پیام الکترونیکی
(۳) انتقال یک پیام الکترونیکی باز نشده به یک پوشه مشخص
(۴) حذف یک پیام الکترونیکی باز نشده
- ❑ پاسخ سایت ایران عرضه: گزینه ۲ ➡ باز کردن یک فایل الحاقی در کنار نامه‌ی الکترونیکی می‌تواند سیستم را آلوده به ویروس نماید.

۲- بخشی از یک وب سایت داخلی یک شرکت که برای تعدادی از مشتریان قابل دسترسی است، چه نامیده می شود.

- (۱) Network (۲) Intranet (۳) Internet (۴) Extranet

۳- فرض کنید در محل کارتان، کامپیوترها به یکدیگر متصل شده اند، به طوری که کارمندان می توانند فایل ها و پرینتر را با یکدیگر به اشتراک بگذارند. در اتصال کامپیوترها به یکدیگر، از کدام نوع شبکه استفاده ده است؟

- (۱) ISDN (۲) LAN (۳) TCP/IP (۴) WAN

۴- در محیط Windows، کدام مورد جهت بزرگ کردن اندازه یک پنجره مناسب است، به طوری که تمام صفحه نمایش را در بر گیرد؟ (تنظیم توسط فروشگاه ایران عرضه)



(۴)



(۳)



(۲)



(۱)

۵- اگر بخواهیم بدون استفاده از ماوس، اندازه یک پنجره را تغییر داده و یا آن را حرکت دهید، از کدام مورد استفاده می کنید؟

- (۱) Alt + Space (۲) Ctrl + Shift (۳) Shift + Alt (۴) کلید پنجره روی صفحه کلید

۶- ترکیب کلیدهای Ctrl و Y، معادل کدام عمل است؟

- (۱) cut (۲) Undo (۳) print (۴) Redo

۷- شکل روبرو، کدام ابزار را نشان می دهد؟



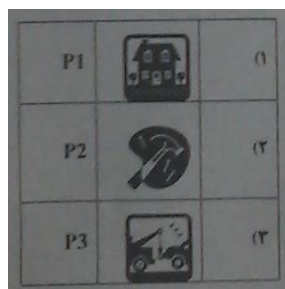
(۱) Text

(۲) Paragraph

(۳) Header and Footer

(۴) Page Setup

۸- جدول زیر را در نظر بگیرید، اگر بخواهیم محتویات هر کدام از خانه های جدول وسط خانه قرار بگیرد از کدام ابزار استفاده می کنید؟



Auto Fit (۱)

Justify (۲)

Center (۳)

Cell Alignment (۴)

۹- در یک کاربرگ از یک فایل Excel، عمل فیلتر کردن بر اساس کدام داده ها، قابل انجام است؟

(۱) هر ستون (۲) هر سطر

(۳) هر ستون با هر سطر (۴) فقط سطر اول

۱۰- فرض کنید در یک کاربرگ از یک فایل Excel، ۳۵ ستون دارید، کدام مورد به خانه ای که در سطر ۶ و ستون ۲۹ این کاربرگ قرار دارد، اشاره می کند؟

(۱) C2(6) (۲) AC (6) (۳) F 29 (۴) 29 F

۱۱- کدام مورد (موارد)، به عنوان منبع داده برای تهیه گزارش در محیط Access استفاده می شود؟

Table . I Query . II Form . III Report . IV

(۱) I و II (۲) I (۳) II و III (۴) III و IV

۱۲- شکل زیر، در نسخه های جدید Power Point (۲۰۰۷ به بعد) چه کاربردی دارد؟ (ایران عرضه)



(۱) ایجاد یک نمایش دلخواه از چند اسلاید

(۲) حرکت بین بخش های مختلف یک اسلاید

(۳) نحوه ظاهر شدن یک اسلاید در حین نمایش

(۴) تعیین ظاهر شدن یک شکل در یک اسلاید

۱۳- فرض کنید داخل یک اسلاید از یک فایل Power Point، برای یک نوشته از ابزار *Exit → fade* استفاده کرده اید. کدام یک از موارد زیر، حاصل خواهد شد؟

۱- در حین نمایش این اسلاید، نوشته مورد نظر به تدریج ظاهر خواهد شد .

۲) در حین نمایش این اسلاید، نوشته مورد نظر به تدریج محو خواهد شد .

۳) نوشته مورد نظر به تدریج محو و سپس ظاهر خواهد شد .

۴) نوشته مورد نظر به تدریج ظاهر و سپس محو خواهد شد .

۱۴- ابزار Book mark برای صفحه های وب، به کدام منظور استفاده می شود؟

۱) اطمینان از این که این صفحات در آینده قابل دسترسی هستند

۲) اطمینان از این که اطلاعات روی صفحه تغییر نمی کنند

۳) ذخیره سازی صفحات مورد نظر روی کامپیوتر

۴) دسترسی آسان به صفحات مورد نظر در روزهای آینده

۱۵- اگر بخواهیم یک صفحه وب به حالت تمام صفحه در آید، از کدام کلید کمک می گیرید؟

F 2 (۴)

F 5 (۳)

F 9 (۲)

F 11 (۱)

۱۶- در پست الکترونیکی، ابزار Compose، به کدام منظور استفاده می شود؟

۱) ترکیب کردن دو یا چند نامه الکترونیکی با یکدیگر

۲) الحاق یک فایل به نامه الکترونیکی جهت ارسال

۳) آماده کردن یک نامه الکترونیکی جهت ارسال

۴) دریافت یک نامه الکترونیکی

۱۷- فرض کنید از طریق کامپیوتر شخصی خود به اینترنت متصل شده اید کدام مورد جهت قطع ارتباط با اینترنت استفاده

میشود؟

1) Disconnect

2) Eject

3) No connect

4) Close

۱۸- در محیط ویندوز برنامه های در حال اجرا توسط کدام نوار نمایش داده می شود؟

1) Tool bar

2) Title bar

3) Menu bar

4) Task bar

۱۹- جهت ایجاد BOOK MARK در یک سند Word 2007 به کدام زبانه مراجعه میکنید؟

1) page layout

2) insert

3) home

4) referenccs

۲۰- به منظور درج کردن یک رابطه ریاضی در محیط word 2007 از کدام مورد استفاده میشود؟

1) Tools>equation

2) insert>function

3) insert>equation

4) Tools>function

❖ فصل نهم: سوالات استخدامی قوه قضاییه ۱۴۰۰

◀ معارف اسلامی

۱- واجب کفایی در حوزه احکام شرعی یعنی چه؟

- (۱) در صورتی که بعضی از مکلفین به آن قیام کنند از دیگران ساقط می شود.
 (۲) همه مکلفین موظف به انجام آن هستند و با عمل کردن برخی از دیگران ساقط نمی شود.
 (۳) واجبی که تنها بر مردان تکلیف است و از زنان ساقط است.
 (۴) واجبی که دارای مراتب عرضیه بوده و با انجام برخی از دیگران ساقط می شود.
- ❑ پاسخ سایت ایران عرضه: گزینه ۱ ◀ واجب کفایی گونه ای از واجبات دینی که مخاطب آن فرد مشخصی نیست و با انجام آن از سوی هر یک از مکلفین هدف شارع برآورده می شود و دیگر کسی تکلیفی ندارد. دفن میت، امر به معروف و نهی از منکر و جهاد جزو واجبات کفایی هستند.

۲- اساسی ترین پایه جهان بینی الهی را کدام اصل تشکیل می دهد؟ (iranarze.ir)

- (۱) امامت (۲) توحید (۳) معاد (۴) نبوت

۳- منظور از ایمان راستین چیست؟

- (۱) ایمان با تقوا (۲) ایمان بدون نیاز به توبه

- (۳) ایمان توأم با عمل (۴) ایمان در کار علم

۴- روزه گرفتن در کدام روز حرام است؟

- (۱) عید فطر (۲) عید قربان (۳) عید مبعث (۴) گزینه های الف و ب

۵- جمله ی «لا حول و لا قوه الا بالله» کدام مرتبه توحید را بیان می کند؟

- (۱) علمی (۲) ذاتی (۳) افعالی (۴) صفاتی

۶- کدام سوره سجده واجب ندارد؟

- (۱) تکویر (۲) علق (۳) نجم (۴) فصلت

۷- کدام مورد از ارکان نماز نیست؟

- (۱) خواندن حمد و سوره (۲) دو سجده
 (۳) قیام متصل به رکوع (۴) نیت و تکبیره الاحرام

۸- در کدام توحید گفته می شود ذات خدا، تعدد و کثرت پذیر نیست؟

- (۱) توحید ذاتی (۲) توحید عبادی
 (۳) توحید افعالی (۴) توحید صفاتی

۹- کدام گزینه از معجزات حضرت موسی (ع) است؟

(۱) ید بیضا (۲) تبدیل شدن عصا به اژدها

(۳) زنده کردن مردگان (۴) گزینه های الف و ب

۱۰- در قلمرو برهان نظم در قرآن مجید از نظامات موجود در عالم هستی به چه عنوان یاد می شود؟

(۱) آفرینش قدیم (۲) آیات الهی (۳) خلقت جدید (۴) معجزات الهی

زبان انگلیسی - عمومی

Direction: Choose the word or phrase (a), (b), (c) or (d) that best completes each sentence.

11- It seems to me that they never gave a thought to future problems when the plans were being laid down five years ago. .

1) unbelievable 2) probable 3) unreasonable 4) impossible

12- Every substance has a melting point and a boiling point. The former is the temperature at which it changes from solid to liquid. The is the temperature at which it changes from liquid to gas.

1) later 2) latest 3) latter 4) last

13- You could being a little bit more friendly, couldn't you? .

1) afford 2) comfort 3) effort 4) support

14- She is very You just couldn't make her walk past under a ladder. (i r a n a r z e)

1) religious 2) deformed 3) supernatural 4) superstitious

15- Despite these overwhelmingly difficult trading conditions, the company has produced outstanding results.

1) therefore 2) accordingly 3) nevertheless 4) consequently

16- I've listened to your argument. It's neither here nor there. In other words, it's quite

1) memorable 2) irrelevant 3) scornful 4) enormous

17- We were surprised James so soon after his car accident.

1) to see/walking 2) being seen/walked
3) to have seen 4) seeing/to have walked

18- out of school as a teenager. Maurice decided later in life up his education where he had left off.

- 1) being dropped/took 2) having dropped/to take
3) to drop/taking 4) dropped/being taken

19- When for olive oil, "refined" means that the oil chemically to neutralize acid content.

- 1) using/ will have treated 2) to use/ will be treated
3) uses/ is being treated 4) used/ has been treated

20- of the countries of Western Europe used to have its own currency, but now of them use the Euro.

- 1) either/any 2) all/whole 3) each/most 4) whole/every

اطلاعات عمومی، دانش اجتماعی، هوش و توانمندی های عمومی

۲۱- در چند رشته ورزشی، مدال طلای المپیک برای کشورمان به دست آمده است؟

- (۱) ۳ رشته (۲) ۴ رشته (۳) ۵ رشته (۴) ۷ رشته

۲۲- کودتای ۲۸ مرداد ۱۳۳۲ در دوران ریاست جمهوری چه فردی روی داد؟ (تهیه شده توسط ایران عرضه)

- (۱) آیزنهاور (۲) ترومن (۳) کندی (۴) ویلسون

۲۳- علی اکبر دهخدا، سردبیر کدام روزنامه بود؟

- (۱) پرورش (۲) اختر (۳) نوبهار (۴) صور اسرافیل

۲۴- رئیس قوه قضاییه برای مدت سال منصوب می شود.

- (۱) ۵ سال (۲) ۴ سال (۳) ۶ سال (۴) ۳ سال

۲۵- حق یا حقوقی که برای اشخاص نسبت به اموال آنها صادر می شود، کدام است؟

- (۱) حق انتفاع (۲) حق ارتفاق به ملک غیر

- (۳) حق مالکیت (اعم از عین یا منفعت) (۴) همه موارد

** با توجه به متن زیر به سوالات ۲۶ و ۲۷ پاسخ دهید:

پنج خانواده که شامل خانواده سعید، خانواده خاله سعید، خانواده عمه سعید، خانواده دایی سعید و خانواده عموی سعید هستند، توسط پنج خودروی پراید، پژو، سمند، تندر ۹۰ و پیکان (هر خانواده با یک خودرو) به پیک نیک می روند و با رعایت محدودیت های زیر، در مقصد وارد یک ویلا می شوند:

- خودروی پراید که متعلق به عموی سعید نمی باشد، یا اولین خودرویی است که وارد ویلا می شود یا چهارمین خودرو.
- خودروی تندر ۹۰ دقیقاً بعد از خودروی عمه سعید و دقیقاً قبل از خودروی دایی سعید وارد ویلا می شود.
- دقیقاً قبل از خودروی پژو، خودروهای عموی سعید و دایی سعید، به ترتیب وارد ویلا می شوند.
- خودروی خاله سعید، دقیقاً جلوی خودروی سمند وارد ویلا می شوند.

پاسخ نامه زیر کلی بوده و برای حل سوالات ۲۶ و ۲۷ به کار میرود
با در نظر گرفتن مورد ۱ و ۲ میتوان به قطع جدول زیر را رسم کرد.

****	پژو	****	تندر ۹۰	****	****
****	****	دایی سعید	عموی سعید	عمه سعید	****

با در نظر گرفتن اینکه خودرو خاله سعید قبل از سمند وارد میشود و خودرو عمه سعید قطعاً مشخص نیست میتوان به گفت خاله سعید یا نفر اول است یا نفر چهارم که در این صورت جدول به دو حالت بعدی رسم میشود

پراید / پیکان	سمند	تندر ۹۰	پیکان / پراید	پژو
خاله سعید	عمه سعید	عموی سعید	دایی سعید	سعید

پراید	تندر ۹۰	پیکان	پژو	سمند
عمه سعید	عموی سعید	دایی سعید	خاله سعید	سعید

۲۶- خودروی تندر ۹۰، به عنوان چندمین خودرو می تواند توسط خانواده سعید وارد ویلا شود؟

- (۱) چهارمین خودرو
(۲) خانواده سعید نمی تواند تندر ۹۰ داشته باشد
(۳) سومین خودرو
(۴) دومین خودرو

۲۷- اگر خودرو خاله سعید، پیکان باشد، خودروی عمه سعید کدام است؟

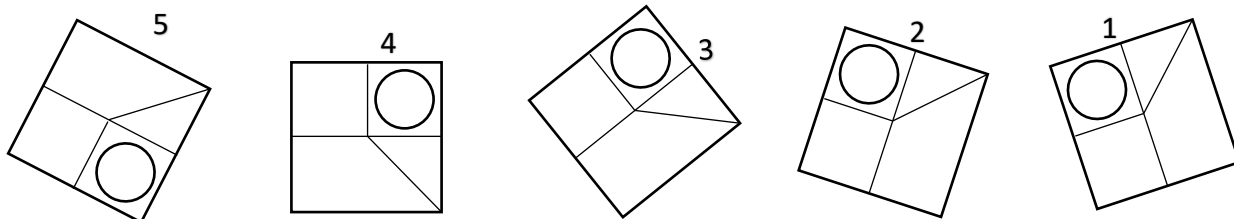
- (۱) پراید
(۲) تندر ۹۰
(۳) پژو
(۴) سمند

۲۸- با توجه به معادلات روبرو، مقدار x کدام گزینه است؟

$$\begin{aligned} 1 + 3 &= 6 \\ 2 + 4 &= 12 \\ 3 + 5 &= 20 \\ 4 + 6 &= 30 \\ 5 + 7 &= x \end{aligned}$$

- (۱) ۴۲
(۲) ۴۰
(۳) ۴۴
(۴) ۳۸

۲۹- کدام تصویر روبرو، با بقیه متفاوت است؟



- (۱) ۲
(۲) ۳
(۳) ۴
(۴) ۵

۳۰- بر اساس قانون تبعیت ایران، هر زن تبعه خارجی که شوهر ایرانی اختیار کند، در چه صورتی به عنوان تبعه ایران شناخته میشود؟

- (۱) همین که به ازدواج مرد ایرانی درآید.
- (۲) در صورتی که از شوهر ایرانی اش فرزندی به دنیا آورد.
- (۳) در صورتی که قبلاً با مرد غیر ایرانی ازدواج نکرده باشد.
- (۴) به شرطی که بعد از ازدواج بپذیرد که در ایران زندگی کند.

